



CÂMARA MUNICIPAL DE SANTA BÁRBARA D'OESTE

ESTADO DE SÃO PAULO

CONCURSO PÚBLICO

006. PROVA OBJETIVA

BIBLIOTECONOMISTA

- ◆ Você recebeu sua folha de respostas e este caderno contendo 50 questões objetivas.
- ◆ Confira seus dados impressos na capa deste caderno e na folha de respostas.
- ◆ Quando for permitido abrir o caderno, verifique se está completo ou se apresenta imperfeições. Caso haja algum problema, informe ao fiscal da sala para a devida substituição desse caderno.
- ◆ Leia cuidadosamente todas as questões e escolha a resposta que você considera correta.
- ◆ Marque, na folha de respostas, com caneta de tinta preta, a letra correspondente à alternativa que você escolheu.
- ◆ A duração da prova é de 3 horas, já incluído o tempo para o preenchimento da folha de respostas.
- ◆ Só será permitida a saída definitiva da sala e do prédio após transcorrida 1 hora do início da prova.
- ◆ Deverão permanecer em cada uma das salas de prova os 3 últimos candidatos, até que o último deles entregue sua prova, assinando termo respectivo.
- ◆ Ao sair, você entregará ao fiscal a folha de respostas e este caderno.
- ◆ Até que você saia do prédio, todas as proibições e orientações continuam válidas.

AGUARDE A ORDEM DO FISCAL PARA ABRIR ESTE CADERNO.

Nome do candidato

RG

Inscrição

Prédio

Sala

Carteira

CONHECIMENTOS GERAIS

LÍNGUA PORTUGUESA

Leia a tira para responder às questões de números **01** e **02**.



(Bill Waterson. *O melhor de Calvin*. www.estadao.com.br. 21.04.2023)

01. A partir da leitura da tira, é correto afirmar que

- (A) a fala da garota, no último quadro, revela discordância quanto à dedução feita pelo garoto.
- (B) o garoto se julga detentor de uma mente científica por inferir algo a partir da curiosidade.
- (C) a garota incomoda-se com o fato de o garoto ter razão mesmo em algo aparentemente inútil.
- (D) o garoto espera provar, ao beber leite pelo nariz, o contrário do que é mais lógico acontecer.
- (E) a curiosidade do garoto levou-o a conduzir uma experiência que implica riscos à sua saúde.

02. Um vocábulo empregado na tira em sentido figurado, no contexto em que se encontra, foi:

- (A) curiosidade (1º quadro)
- (B) impulsiona (1º quadro)
- (C) inspiro (3º quadro)
- (D) mente (4º quadro)
- (E) dedução (4º quadro)

03. Assinale a alternativa em que a frase está redigida em conformidade com a norma-padrão de concordância.

- (A) O pai ouviu as crianças tendo uma conversa inusitada, que as fizeram rir sem parar.
- (B) Tudo na nossa tenra idade eram travessuras e brigas pelos motivos mais banais.
- (C) Os rumos imprevisíveis que os fluidos podem tomar no corpo gerou uma discussão.
- (D) O menino pegou dois canudos qualquer e desatou a falar de seu experimento.
- (E) Brincadeiras que ocorreram na infância nos garante uma vida adulta feliz.

04. Assinale a alternativa em que o vocábulo destacado tem valor de **posse**.

- (A) Eu disse-**lhe** a minha dedução para que ela desse a sua opinião.
- (B) Nós **lhe** explicamos tudo o que poderia ter acontecido no processo.
- (C) A maneira como você fala pode reforçar-**lhe** a força do argumento.
- (D) Você quer que eu **lhe** participe minha teoria, um pouco repulsiva?
- (E) Se não **lhe** provoca asco o que faz, deixe-me fora disso!

Leia o texto para responder às questões de números **05** a **08**.

Uma analogia frequentemente usada para falar de divulgação científica descreve o cientista como um ser enclausurado em uma torre de marfim isolada do resto da sociedade. A metáfora costuma ser a deixa para defender que ele tem o dever de descer da torre ou construir pontes para compartilhar o conhecimento produzido na academia com o cidadão comum. Essa história sempre me pareceu estranha por retratar a pesquisa acadêmica como uma torre de marfim: uma estrutura sólida, robusta e imaculada.

É óbvio que cientistas sabem algumas coisas com um grau muito alto de certeza. Computadores, celulares e bombas atômicas estão aí para provar o sucesso acachapante das leis da física em fazer previsões sobre a realidade. Da mesma forma, ninguém discutiria no meio médico que antibióticos são capazes de matar bactérias, ou que a insulina salvou a vida de milhões de diabéticos.

Ao mesmo tempo, porém, quase um século de estudos sobre nutrição não conseguiu responder a questões básicas, como saber se é melhor basear uma dieta em carboidratos ou lipídeos. Décadas de investimento na neurobiologia dos transtornos mentais tiveram um impacto raso na saúde mental das populações. E os bilhões de dólares investidos em pesquisa básica sobre Alzheimer que se converteram em praticamente nada de útil na clínica? Em algumas áreas da ciência, ao menos, a tal torre de marfim está mais para um castelo de cartas.

Os defensores da ciência serão rápidos em argumentar que o fracasso desses campos não se traduz necessariamente em uma mácula no currículo da pesquisa acadêmica. Alguns problemas são simplesmente difíceis, e é perfeitamente possível que, a qualquer momento, essas décadas de investimento em pesquisa comecem a trazer seu retorno para a sociedade.

Minha impressão é de que a pesquisa acadêmica tem muitos pontos a serem melhorados – e minha intenção, mais do que a propagandear, é me debruçar sobre suas mazelas. Que ninguém pense, porém, que estou descendo da torre de marfim para fazê-lo. Pelo contrário, sempre estive falando ao rés do chão: se há alguma torre nessa história, meu intuito é ajudar a construí-la.

(Olavo Amaral. *Torres de marfim, castelos de cartas e telhados de vidro*. www.nexojournal.com.br, 23.08.2022. Adaptado)

05. De acordo com informações presentes no texto, é correto afirmar que

- (A) uma comparação didática é feita para validar a visão do autor de que pesquisas feitas com rigor científico são irretocáveis.
- (B) a falta de respostas para algumas questões favorece a visão de que a ciência está fadada a desaparecer das práticas humanas.
- (C) o autor, apesar de não refutar a importância de certas pesquisas, acredita que é necessário analisar com afinco as falhas acadêmicas.
- (D) a estranheza que a analogia causa ao autor se deve à sua natureza complexa, que não ajuda a popularizar a função da ciência.
- (E) descer da metafórica torre de marfim é algo que o autor não está disposto a fazer, ainda que reconheça ser necessário falar com as massas.

06. Os exemplos apresentados no campo da nutrição, da neurobiologia e das pesquisas sobre o Alzheimer (3º parágrafo) servem no texto para

- (A) corroborar o que se afirmou no parágrafo anterior.
- (B) reforçar o argumento de que a analogia se sustenta.
- (C) enfatizar a fragilidade do que se considera inabalável.
- (D) eximir a ciência de falhas e atrasos em seus resultados.
- (E) criar a ilusão de que a ciência cumpriu o seu papel.

07. No trecho “A metáfora costuma ser a deixa para defender que ele tem o dever de descer da torre...” (1º parágrafo), o vocábulo **deixa** pertence à mesma classe de palavras, no contexto em que se encontra, que o vocábulo destacado em:

- (A) ... retratar a pesquisa acadêmica com uma torre de marfim: uma estrutura **sólida**, robusta e imaculada. (1º parágrafo)
- (B) É óbvio que cientistas sabem **algumas** coisas com um grau muito alto de certeza. (2º parágrafo)
- (C) ... pesquisa básica sobre Alzheimer que se converteram em praticamente **nada** de útil... (3º parágrafo)
- (D) ... o fracasso desses campos não se **traduz** necessariamente em uma mácula... (4º parágrafo)
- (E) ... essas **décadas** de investimento em pesquisa comecem a trazer seu retorno para a sociedade. (4º parágrafo)

08. Assinale a alternativa em que o vocábulo destacado teve sua posição alterada em relação ao trecho original, mantendo-se a correção da norma-padrão de colocação pronominal da língua portuguesa:

- (A) Da minha parte, essa história sempre pareceu-**me** estranha por retratar a pesquisa...
- (B) ... pesquisa básica sobre Alzheimer que converteram-**se** em praticamente nada...
- (C) ... o fracasso desses campos não traduz-**se** necessariamente em uma mácula...
- (D) ... e minha intenção, mais do que propagandear-**la**, é me debruçar sobre suas mazelas.
- (E) ... se há alguma torre nessa história, meu intuito é ajudar a **a** construir.

09. Para não serem _____, os cientistas _____ as explicações necessárias sem que o comitê ético _____.

As lacunas da frase são, correta e respectivamente, completadas por:

- (A) suspensos ... provieram ... intervisse
- (B) suspensos ... provieram ... interviesse
- (C) suspensos ... proveram ... intervisse
- (D) suspensos ... provieram ... intervisse
- (E) suspensos ... proveram ... interviesse

10. A norma-padrão de regência verbal e nominal foi observada em:

- (A) Para muitos, é preferível estar exaurido em uma torre de marfim a estar aliviado em um lamaçal.
- (B) A ciência teve avanços expressivos, conseguindo com que esse período entrasse para a história.
- (C) O termo “rés do chão” corresponde em um pavimento de um edifício que está ao nível do solo.
- (D) Há muitos intelectuais elitistas que vivem deliberadamente desvinculados ao mundo cotidiano.
- (E) Cortar carboidratos da dieta leva o corpo consumir da gordura corporal para obter energia.

11. Em uma empresa, no início de uma confraternização, 684 pessoas estavam presentes, de maneira que para cada 7 brasileiros havia 12 estrangeiros. Antes do fim da confraternização, ainda estavam presentes na empresa 120 pessoas, sendo 9 brasileiros para cada 11 estrangeiros. O número de brasileiros que saiu da festa antes do fim da confraternização foi
- (A) 196.
 - (B) 198.
 - (C) 200.
 - (D) 202.
 - (E) 204.
12. De um total de 320 dispositivos, alguns estão configurados corretamente e os demais incorretamente. Alguns técnicos ficaram encarregados de fazer o ajuste correto em 40% dos dispositivos configurados incorretamente e, dessa maneira, o número total de dispositivos configurados corretamente passou a ser 179. O número de dispositivos que foram ajustados pelos técnicos foi
- (A) 20.
 - (B) 56.
 - (C) 80.
 - (D) 94.
 - (E) 108.
13. A produção de certa peça é feita por máquinas idênticas. Para produzir determinado lote dessas peças, 5 dessas máquinas devem funcionar por 9 horas. Se 12 dessas máquinas funcionarem por 12 horas, serão produzidas 2079 peças a mais do que o número de peças do lote. Cada uma dessas máquinas produz, por hora, um número de peças compreendido entre
- (A) 20 e 25.
 - (B) 25 e 30.
 - (C) 30 e 35.
 - (D) 35 e 40.
 - (E) 40 e 45.

14. André, Bernardo e Carlos são irmãos e juntam dinheiro em certo cofre. Certa manhã, André pegou R\$ 1.650 do cofre e, em seguida, pegou mais a terça parte do que sobrou. Logo depois, Bernardo pegou R\$ 275 do cofre e, em seguida, pegou mais a terça parte do que sobrou. Mais tarde Carlos pegou todo o dinheiro que restava no cofre. Sabendo que Bernardo e Carlos pegaram a mesma quantia e que André pegou o dobro do que os outros dois irmãos juntos, antes de André fazer sua primeira retirada o total de dinheiro no cofre estava compreendido entre

- (A) R\$ 3.000 e R\$ 3.500.
- (B) R\$ 3.500 e R\$ 4.000.
- (C) R\$ 4.000 e R\$ 4.500.
- (D) R\$ 4.500 e R\$ 5.000.
- (E) R\$ 5.000 e R\$ 5.500.

15. Um total de 1215 obras foram restauradas por 41 artistas. Parte dessas obras exigiam muito tempo para a restauração e, por isso, elas foram restauradas por artistas experientes, cada artista restaurando apenas 3 obras. As demais obras eram de rápida restauração e elas foram divididas igualmente entre os demais artistas, que eram iniciantes, de maneira que o número de obras restauradas por cada artista iniciante foi igual ao total de obras restauradas pelos artistas experientes. Se menos da metade desses artistas é experiente, o número de obras restauradas por cada artista iniciante está compreendido entre

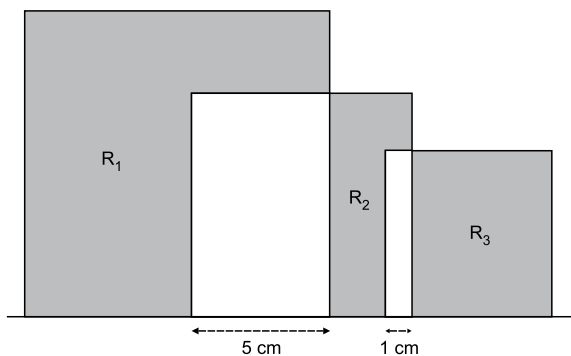
- (A) 21 e 31.
- (B) 31 e 41.
- (C) 41 e 51.
- (D) 51 e 61.
- (E) 61 e 71.

16. Uma equipe de natação é composta por 15 nadadores e no dia 31 de julho um terço deles já havia participado de 24 competições cada um e os demais de 21 competições cada um. Esses atletas participam de, no máximo, uma competição por mês e no dia 31 de agosto a média aritmética dos números de competições que esses nadadores participaram era 22,6. No mês de agosto, o número de nadadores que participaram de uma competição foi

- (A) 3.
- (B) 5.
- (C) 6.
- (D) 8.
- (E) 9.

17. Certo dia, da capital São Paulo partiram 40 ônibus, todos com o mesmo número de passageiros, com destino a Campinas. Alguns desses ônibus fizeram uma única parada no meio do caminho para o desembarque de passageiros, mas nunca houve embarque nessas paradas. Entre esses ônibus foram feitas 28 paradas, sendo que em 7 delas desembarcaram 12 pessoas em cada parada, em 8 delas desembarcaram 10 pessoas em cada parada e nas demais desembarcaram 9 pessoas em cada parada. Se o total de passageiros que desembarcou em Campinas foi 1239, o número de passageiros por ônibus era
- (A) 35.
(B) 36.
(C) 37.
(D) 38.
(E) 39.

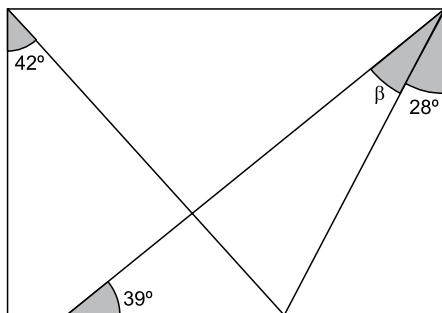
18. Os lados de 3 quadrados estão sobre uma mesma reta e eles se intersectam determinando duas regiões em comum (área branca) e três regiões não comuns, R_1 , R_2 e R_3 de áreas respectivamente iguais a 81 cm^2 , 18 cm^2 e 30 cm^2 , conforme mostra a figura.



A soma das áreas desses 3 quadrados é

- (A) 185 cm^2 .
(B) 221 cm^2 .
(C) 234 cm^2 .
(D) 244 cm^2 .
(E) 266 cm^2 .

19. Em um retângulo, três segmentos foram desenhados, cada um com uma extremidade em um vértice do retângulo e a outra extremidade em um lado do retângulo, conforme mostra a figura.



A medida do ângulo β é

- (A) 27° .
(B) 26° .
(C) 25° .
(D) 24° .
(E) 23° .
20. Uma empresa de motofrete tem duas equipes, uma que trabalha pela manhã e outra à tarde. Certo dia cada motofretista da equipe da manhã fez 22 entregas e cada motofretista da equipe da tarde fez 15 entregas, de maneira que, nesse dia, a empresa fez um total de 884 entregas. No dia seguinte, cada motofretista da equipe da manhã fez 27 entregas e cada motofretista da equipe da tarde fez 12 entregas, de maneira que, nesse segundo dia, a empresa fez um total de 1008 entregas. O número de motofretistas que trabalha para essa empresa é
- (A) 40.
(B) 42.
(C) 44.
(D) 46.
(E) 48.

NOÇÕES DE INFORMÁTICA

21. Arquivamento e registros de documentos digitais podem precisar de marcadores dos tipos de arquivos. No MS-Windows 10, em sua configuração original, o aplicativo acessório padrão para manipular o tipo de arquivo rtf é
- (A) MS-Word 2016.
 (B) Bloco de Notas.
 (C) WordPad.
 (D) OpenOffice Writer.
 (E) OpenOffice Calc.

22. Um usuário do MS-Word 2016, em sua configuração padrão, durante a edição e formatação de um documento, produziu o documento visto na imagem ANTES, exibida a seguir.

ANTES

Técnicas de elaboração de descritores:

1. Descritor 1
 - a. Descritor 1.1
 - b. Descritor 1.2
2. Descritor 2
3. |Descritor 2.1






Em seguida, com o cursor na posição vista na imagem, acionou um ícone na guia página inicial que produziu a mudança vista na imagem DEPOIS, exibida a seguir.

DEPOIS

Técnicas de elaboração de descritores:

1. Descritor 1
 - a. Descritor 1.1
 - b. Descritor 1.2
2. Descritor 2
 - a. |Descritor 2.1

Assinale a alternativa que apresenta o ícone acionado conforme o enunciado.

- (A) 
- (B) 
- (C) 
- (D) 
- (E) 

23. Observe a planilha a seguir, elaborada por meio do MS-Excel 2016, em sua configuração padrão, em que um biblioteconomista elencou artigos científicos e as respectivas palavras-chaves.

	A	B
1	Artigo	Palavra-chave
2	Artigo 1	enzima
3	Artigo 2	cromossomo
4	Artigo 3	enzima
5	Artigo 4	proteína
6		
7		2

Assinale a alternativa que contém a fórmula que retorna o resultado exibido na célula B7, conforme a imagem.

- (A) =CONT.SE(B2:B5;"enzima")
 (B) =CONTSES(B2:B5;"enzima")
 (C) =CONT.SE("enzima";B2:B5)
 (D) =CONTSES("enzima";B2:B5)
 (E) =COUNT("enzima")

24. Um usuário preparou uma apresentação por meio do MS-PowerPoint 2016, em sua configuração padrão, sobre Processamento Técnico de Informação e usou os dois ícones exibidos a seguir, que representam, respectivamente, efeitos de _____ e _____.



Assinale a alternativa que preenche, correta e respectivamente, as lacunas do enunciado.

- (A) animação ... transição
 (B) transição ... animação
 (C) animação ... animação
 (D) transição ... transição
 (E) tema ... transição

25. Um usuário deseja buscar na internet, por meio do Google.com, em sua configuração padrão, por arquivos em PDF que contenham a palavra biblioteconomista.

A expressão de busca que deve ser usada para atender ao enunciado é:

- (A) "PDF" biblioteconomista
 (B) biblioteconomista in-site PDF
 (C) biblioteconomista in-title PDF
 (D) "biblioteconomista" filetype:pdf
 (E) "biblioteconomista filetype:pdf"

CONHECIMENTOS ESPECÍFICOS

26. Em relação à Documentação, é correto afirmar que

- (A) objetivou o desenvolvimento de um movimento cooperativo com foco em países de língua francesa para estabelecer um inventário da produção científica no idioma.
- (B) construiu o Repertório Bibliográfico Universal com a padronização das fichas catalográficas e o uso contínuo da Classificação Decimal de Dewey.
- (C) institucionalizou a Documentologia como a principal disciplina científica voltada para arquivos, bibliotecas, museus, e demais instituições de guarda de documentos.
- (D) intensificou a natureza pós-custodial de ações da bibliografia promovendo uma grande rede para registros de documentos contendo o conhecimento produzido.
- (E) promoveu no plano teórico-científico a proposta de construção de uma cidade do conhecimento com a totalidade dos artefatos humanos chamada de *Museum*.

27. Na documentação jurídica, são elencados exclusivamente como documentos de jurisprudência,

- (A) constituição, leis e decretos.
- (B) medida provisória, portaria e resoluções.
- (C) consolidação, estatuto, regulamento.
- (D) regimento, circular e despacho.
- (E) decisão, acórdão e súmulas.

28. A rede cooperativa de bibliotecas, coordenada pela Biblioteca do Senado Federal, que agrega recursos bibliográficos de bibliotecas da Administração Pública Federal e do governo do Distrito Federal, dos Poderes Legislativo, Executivo e Judiciário, com o objetivo de atender às demandas de informação na área, denomina-se

- (A) BIBLIODATA.
- (B) IUSDATA.
- (C) RVBI.
- (D) LEYES.
- (E) LSN.

29. O tipo de documento que apresenta uma decisão, resolução ou solução dada por uma autoridade a toda e qualquer questão submetida à sua jurisdição denomina-se

- (A) doutrina.
- (B) recurso.
- (C) ementa.
- (D) sentença.
- (E) deliberação.

30. Assinale a alternativa correta.

- (A) Decreto legislativo é um documento de ato administrativo que consiste na determinação de providências para o bom andamento do serviço público.
- (B) Consolidação na terminologia jurídica significa uma coleção de leis que visa a extinção ou revogação de direitos e obrigações.
- (C) Despacho é um documento contendo o conjunto de regras ou disposições estabelecidas para que se executem as leis, por elas determinando as providências efetivas de determinações legislativas.
- (D) Ordem de serviço é o conjunto de regras, de caráter legislativo, instituído pelo poder executivo, em razão de autoridade constitucional, em que se ache investido ou em cumprimento de determinada matéria.
- (E) Circular é um ato administrativo de caráter geral, uniforme, endereçado a todos os órgãos que tenham a mesma condição, a mesma função e que pertençam à mesma categoria.

31. No que se refere ao processo de seleção de materiais em bibliotecas, é correto afirmar que

- (A) lista de desiderata, lista de demanda reprimida e lista de sugestões são de uso corrente nas instituições, na prática quase sinônimos e se referem a materiais que a biblioteca está considerando incorporar ao acervo.
- (B) a existência de uma comissão de seleção de caráter deliberativo tem por objetivo facilitar as tarefas do bibliotecário que deixa de participar da tomada de decisões quanto à escolha dos materiais adquiridos.
- (C) o bibliotecário responsável pela seleção deve aceitar todas as doações recebidas pela biblioteca visando motivar a comunidade a dar continuidade no oferecimento de materiais para a instituição.
- (D) os estudos de comunidade, de usuários e as pesquisas de opinião são mecanismos formais da biblioteca para identificação de serviços aos usuários em geral que pouco contribuem para a seleção e aquisição de materiais.
- (E) o uso de formulários para indicação de títulos a serem adquiridos é recomendado de forma que, quanto mais tipos de formulários para serem manuseados e mais esforços forem feitos, melhores resultados serão alcançados.

32. O termo relativo ao processamento técnico realizado com maior rapidez, de um documento recém-adquirido e que deve ser encaminhado, com urgência, a um usuário é

- (A) processamento sequencial.
- (B) pré-catalogação.
- (C) tratamento em lote.
- (D) tombamento.
- (E) processamento em tempo real.

33. Nas linguagens documentárias, os elementos estruturais como

- (A) descritores representam de maneira polissêmica os conceitos utilizáveis para a consulta sendo em geral indicados por termos compostos e frases.
- (B) qualificadores visam contextualizar os termos, evitam definir novo descritor e reduzem o tamanho do tesouro ou vocabulário controlado.
- (C) não descritores são sinônimos ou quase sinônimos em relação hierárquica que devem ser utilizados como termos na indexação.
- (D) grupos de descritores pertencem à organização semântica da linguagem arranjados por classes de termos ou temas e correspondem às relações associativas.
- (E) facetas, que são instâncias de relações de equivalência da linguagem, indicam fenômenos, processos, materiais, equipamentos, propriedades ou disciplinas.

34. Analise o quadro a seguir.

bibliotecas jurídicas TG Gestão de Bibliotecas e Recursos de Informação TG bibliotecas especializadas TE bibliotecas legislativas TR direito EQ <i>law libraries</i> (TBCI [Inglês])
--

(Tesouro Brasileiro de Ciência da Informação (TBCI))

Assinale a alternativa correta.

- (A) O termo “Gestão de Bibliotecas e Recursos de Informação” é equivalente ao termo “direito”.
 - (B) O descritor “bibliotecas especializadas” superordena “Gestão de Bibliotecas e Recursos de Informação”.
 - (C) O descritor “bibliotecas legislativas” é um conceito subordinado ao descritor “bibliotecas jurídicas”.
 - (D) O termo “*law libraries*” apresenta uma relação hierárquica do tipo instância em relação ao descritor “bibliotecas jurídicas”.
 - (E) O descritor “bibliotecas jurídicas” apresenta uma relação hierárquica partitiva em relação ao descritor “bibliotecas legislativas”.
35. A automação de serviços bibliotecários deve ser estruturada em padrões internacionais, de forma que o conjunto de convenções de intercâmbio de dados, com regras de formato e controle de entrada para transmissão, saída e comunicação entre computadores desenhado para permitir a pesquisa e recuperação de informação, denomina-se
- (A) MAR21.
 - (B) API's (*Application Program Interfaces*).
 - (C) banco de dados relacional SQL.
 - (D) processo de *background*.
 - (E) Protocolo Z39.50.

36. Em relação ao planejamento bibliotecário, é correto afirmar que

- (A) o primeiro objetivo do profissional de informação na função de planejador consiste em interpretar corretamente a missão institucional e fixar objetivos para o serviço de informação, que colaborem para o cumprimento da missão.
 - (B) as metas da biblioteca são planos expressos em termos de resultados a alcançar, são a quantificação dos objetivos e devem ser redigidas com clareza, iniciadas por um substantivo, devem ser mensuráveis, imutáveis e ter tempo indefinido.
 - (C) os objetivos previstos no planejamento estratégico devem ser viáveis para a unidade de informação; definidos por processos e resultados que permitirão uma avaliação realista das possibilidades, fixando e estabelecendo a missão institucional.
 - (D) nas bibliotecas e serviços de informação, as políticas gerais são relativas às áreas de atuação individuais como políticas de formação e desenvolvimento de coleções, de conservação de acervo, de treinamento e atendimento aos usuários.
 - (E) os procedimentos dos serviços de informação são instrumentos planejados que estabelecem métodos aleatórios de execução de atividades, detalham uma atividade a ser realizada e a sequência das rotinas.
37. No que concerne aos indicadores de relações utilizados pela Classificação Decimal Universal (CDU), é correto afirmar que o sinal
- (A) apresentado, como coordenação, liga números e assuntos consecutivos da tabela principal em uma série de conceitos, locais ou épocas, e pode ser usado separadamente como na notação 32+34+61.
 - (B) denominado como relação simples e representado pela barra oblíqua, é considerado geral, coordenado e recíproco entre dois ou mais conceitos, nos quais as relações de A / B e B / A têm valor diferenciado.
 - (C) indicado para o conceito de suba grupamento, utiliza o símbolo igual e não afeta a ordem de arquivamento na notação como no número 17=7 para representação do tema Arte e ética.
 - (D) representado, por dois pontos duplos, fixa a ordem dos números na composição notacional, indica irreversibilidade e é exemplificado pela notação 575.:576.3 para o assunto Citogenética.
 - (E) utilizado para indicar intercalação e alterar a ordem da citação dos conceitos, é o sinal de parênteses que aparece na notação 3(633.74)39.3 para o assunto Ciências sociais, cacau, comércio interno.

38. Em relação às tabelas auxiliares da CDU, é correto afirmar que
- (A) (0...) Raça, grupos étnicos e nacionalidade indica os aspectos étnicos de um assunto e deriva dos auxiliares de língua.
 - (B) (=...) Forma indica o formato ou modo de apresentação de um documento e é obrigatório na classificação.
 - (C) (1/9) Lugar indica o âmbito geográfico, localização ou aspecto espacial do número principal.
 - (D) -02/-04 Tempo indica a data, ponto no tempo ou período como século, ano, mês, dia, horas, minutos e segundos.
 - (E) "... Propriedade indica materiais, relações, processos, operações e pessoas, derivada da tabela de ponto de vista.
39. De acordo com o AACR2, nas indicações de responsabilidade sobre uma obra,
- (A) deve-se transcrever indicações que figurem com destaque no item na forma padronizada e, se for extraída de uma fonte que não seja a fonte principal de informação, deve-se colocar a informação entre parênteses.
 - (B) se uma indicação de responsabilidade preceder o título principal na fonte principal de informação, deve-se transpor para a posição apropriada a não ser que a informação faça parte integrante do título principal.
 - (C) deve-se transcrever e incluir todas as indicações de responsabilidade, caso duas ou mais pessoas ou entidades mencionadas exerçam a mesma função ou diferentes funções na elaboração da obra.
 - (D) se nenhuma indicação aparecer com destaque no item, deve ser construída uma indicação extraída do conteúdo do item e registrada a informação relevante na área de título e na área de notas.
 - (E) quando uma única indicação mencionar mais de duas pessoas ou entidades exercendo a mesma função ou responsabilidade, deve-se incluir todos os nomes e indicar o tipo de responsabilidade entre colchetes.
40. Conforme o AACR2,
- (A) deve ser feita a entrada de leis que governam uma jurisdição sobre o cabeçalho estabelecido para essa jurisdição e acrescentado um título uniforme à entrada principal.
 - (B) para leis promulgadas por jurisdição diversa daquela governada pela lei, deve-se fazer uma entrada principal e uma secundária sob o cabeçalho estabelecido para a jurisdição.
 - (C) para descrição de leis, deve ser feita entrada principal pelo título uniforme do cabeçalho da jurisdição indicado entre colchetes.
 - (D) deve ser feita a entrada de uma compilação de leis que governam mais de uma jurisdição como se fosse lei única sem entradas secundárias.
 - (E) deve ser feita a entrada de projetos de leis sob o título uniforme acrescentado na sequência da entidade legislativa indicada entre parêntesis.
41. A medida de extensão em que todos os assuntos discutidos em certo documento são reconhecidos na operação de indexação e traduzidos na linguagem documentária utilizada pelo sistema de informação refere-se à
- (A) concordância.
 - (B) especificidade.
 - (C) correção.
 - (D) exaustividade.
 - (E) consistência.
42. Na elaboração de resumos, conforme a normalização proposta pela ABNT NBR 6028:2021,
- (A) o resumo deve ser composto por uma sequência de frases concisas em parágrafos diferentes, com indicação de tópicos.
 - (B) em documentos legislativos, recomenda-se o uso de resumo informativo, com o verbo na voz passiva e precedido pela referência.
 - (C) para documento técnico, recomenda-se o uso de resumo indicativo, com o verbo na terceira pessoa, sem palavras-chave e referência.
 - (D) as palavras-chave devem figurar acima do resumo, antecedidas da expressão Palavras-chave, seguidas de vírgula e finalizadas por ponto, com iniciais em maiúsculas.
 - (E) convém que os resumos tenham a extensão de 150 a 500 palavras nos trabalhos acadêmicos e relatórios técnicos e/ou científicos.

43. Segundo a norma ABNT NBR 6023/2018,

- (A) as referências devem ser elaboradas em espaço duplo, alinhadas à margem esquerda do texto e separadas entre si por uma linha em branco de espaço duplo, com sequência padronizada.
- (B) as referências, que aparecerem em notas de rodapé, devem ser alinhadas à margem direita do texto, e, a partir da segunda linha, abaixo da terceira letra da primeira palavra de forma a destacar o expoente.
- (C) os elementos essenciais devem refletir os dados do documento referenciado e informações acrescidas devem seguir o idioma do texto em elaboração e não do documento referenciado.
- (D) para documentos online, devem ser incluídos apenas os elementos essenciais com registro do endereço eletrônico entre colchetes, precedidos pela expressão Acesso em: e a data.
- (E) as referências, ordenadas em uma única lista, devem ser padronizadas quanto ao recurso tipográfico, preferencialmente em negrito, e podem variar quanto e à adoção dos elementos complementares.

44. Assinale a alternativa que contém a referência correta conforme norma ABNT 6023/2018.

- (A) Rio Grande do Sul. [Constituição, 1989]. **Constituição do Estado do Rio Grande do Sul**. 4. ed.atual. Porto Alegre, Assembleia Legislativa, 1995.
- (B) BRASIL. Lei nº 10.406, de 10 de janeiro de 2002. Institui o Código Civil. **Diário Oficial da União**: seção 1, Brasília, DF, ano 139, nº 8, p. 1-74, 11 jan. 2002. PL 634/1975.
- (C) Brasil. República Federativa [Constituição (1988)]. **Constituição**. Organizado por Cláudio Brandão de Oliveira. Rio de Janeiro: Roma Víctor (2002). 320 p.
- (D) CURITIBA. **Lei nº 12.092**, de 21 de dezembro de 2006. Estima a receita e fixa a despesa do município de Curitiba para o exercício financeiro de 2007. Curitiba, Câmara Municipal, 2007.
- (E) BRASIL. Superior Tribunal de Justiça. Súmula nº 333. Cabe mandado de segurança contra ato praticado em licitação promovida por sociedade de economia mista ou empresa pública. **Diário da Justiça: seção 1**, Brasília: DF, ano 82 nº 32, p. 246.

45. Na apresentação de elementos que constituem um livro, é correto afirmar que

- (A) crédito é a indicação, inserida no final do livro, do nome do impressor, local e data da impressão e, eventualmente, outras características tipográficas da obra.
- (B) epígrafe é constituída pela folha ou caderno, em geral de papel ou formato diferente, contendo ou não ilustrações, intercalada no miolo, sem ser incluída na numeração.
- (C) apêndice é o texto ou documento elaborado pelo autor, a fim de complementar sua argumentação, sem prejuízo da unidade nuclear do trabalho.
- (D) anexo é o texto em que o autor apresenta uma citação, seguida de indicação de autoria, relacionada com a matéria tratada no corpo do trabalho.
- (E) colofão é a indicação dos nomes pessoais ou institucionais e da natureza da participação intelectual, artística, técnica ou administrativa na elaboração da publicação.

46. Assinale a alternativa que apresenta exclusivamente atividades relacionadas ao serviço de referência em biblioteca.

- (A) Prestar assistência aos usuários, solicitar doação de material às instituições, determinar número de chamada do livro.
- (B) Realizar levantamentos bibliográficos, orientar e auxiliar na consulta dos catálogos, promover treinamento de usuários.
- (C) Organizar a coleção de obras de referência, cadastrar de obras no catálogo bibliográfico, organizar empréstimo e consulta local.
- (D) Orientar na normalização técnica dos documentos, responder às perguntas do usuário, realizar processamento do material para armazenamento e empréstimo.
- (E) Orientar o uso de bibliografias e recursos de informação, organizar eventos, elaborar lista de duplicatas e doações.

47. Assinale a alternativa que apresenta exclusivamente produtos elaborados pelo serviço de alerta de uma biblioteca.

- (A) Manuais técnicos, lista de novas aquisições, relatório de dados estatísticos.
- (B) Clipping de recortes de jornais, listas para permuta, registro de tombo.
- (C) Listas de referências, diretório de editoras, vocabulário controlado institucional.
- (D) Manual de acesso à bases de dados, catálogo de periódicos, lista de material para seleção.
- (E) Lista de novas aquisições, sumário corrente de periódicos e boletim informativo.

- 48.** No que se refere à legislação que dispõe sobre o exercício da profissão de Bibliotecário, é correto afirmar que
- (A) a profissão é privativa a portadores de diploma de bacharel em Biblioteconomia expedido por instituições de ensino superior nacionais e internacionais validados pelo Ministério Público.
 - (B) a fiscalização do exercício profissional é exercida exclusivamente pelo Conselho Federal de Biblioteconomia junto a administração pública autárquica, paraestatal, empresas governamentais e concessionários de serviço público.
 - (C) o Conselho Federal de Biblioteconomia e os Conselhos Regionais de Biblioteconomia que estabelecem as atribuições profissionais são dotados de personalidade jurídica de direito privado, autonomia administrativa e patrimonial.
 - (D) para o exercício da profissão é obrigatório o registro no Conselho Regional de Biblioteconomia na jurisdição a que o profissional estiver sujeito, sendo obrigatório o pagamento de anuidade ao respectivo Conselho.
 - (E) as atribuições referentes ao registro, à fiscalização e à imposição de penalidades, quanto ao exercício profissional são da competência dos Conselhos Regionais de Biblioteconomia e das escolas de Biblioteconomia.
- 49.** De acordo com o Código de Ética e Deontologia do Bibliotecário brasileiro, é correto afirmar:
- (A) a profissão tem natureza cultural com foco na prestação de serviços de informação à sociedade e a garantia de acesso controlado a esses serviços, livre de quaisquer embargos.
 - (B) o profissional apoia a oferta de serviços públicos e gratuitos, promove e incentiva o uso de coleções, produtos e serviços de bibliotecas e o conceito de acesso aberto e universal.
 - (C) o objeto de trabalho é o documento, artefato cultural conceituado como conhecimento intangível sob as formas escrita, audiovisual e digital, por meio da articulação de linguagens natural e/ou artificial.
 - (D) é direito do profissional preservar o cunho liberal e humanista de sua profissão, fundamentado na liberdade da investigação científica e na dignidade da pessoa humana.
 - (E) é permitido ao bibliotecário, com autorização expressa do conselho profissional, assinar trabalhos ou documentos executados por terceiros, ou elaborados por leigos, alheios a sua orientação, supervisão e fiscalização.
- 50.** Assinale a alternativa que apresenta exclusivamente sistemas de automação de bibliotecas que sejam constituídos por software livre.
- (A) Koha, Gnuteca e OpenBiblio.
 - (B) Alexandria, Dspace e PHL.
 - (C) Sysbibli, WinISIS e Librarium.
 - (D) Kardex, Calimaco e Orbe.
 - (E) Informa, MetaLib e SFX.

