



## CÂMARA MUNICIPAL DE SANTA BÁRBARA D'OESTE

ESTADO DE SÃO PAULO

CONCURSO PÚBLICO

### 003. PROVA OBJETIVA

#### TÉCNICO ADMINISTRATIVO

- ◆ Você recebeu sua folha de respostas e este caderno contendo 40 questões objetivas.
- ◆ Confira seus dados impressos na capa deste caderno e na folha de respostas.
- ◆ Quando for permitido abrir o caderno, verifique se está completo ou se apresenta imperfeições. Caso haja algum problema, informe ao fiscal da sala para a devida substituição desse caderno.
- ◆ Leia cuidadosamente todas as questões e escolha a resposta que você considera correta.
- ◆ Marque, na folha de respostas, com caneta de tinta preta, a letra correspondente à alternativa que você escolheu.
- ◆ A duração da prova é de 3 horas, já incluído o tempo para o preenchimento da folha de respostas.
- ◆ Só será permitida a saída definitiva da sala e do prédio após transcorrida 1 hora do início da prova.
- ◆ Deverão permanecer em cada uma das salas de prova os 3 últimos candidatos, até que o último deles entregue sua prova, assinando termo respectivo.
- ◆ Ao sair, você entregará ao fiscal a folha de respostas e este caderno.
- ◆ Até que você saia do prédio, todas as proibições e orientações continuam válidas.

**AGUARDE A ORDEM DO FISCAL PARA ABRIR ESTE CADERNO.**

Nome do candidato

RG

Inscrição

Prédio

Sala

Carteira

## CONHECIMENTOS GERAIS

### LÍNGUA PORTUGUESA

#### 01. Leia a tira.



(André Dahmer. *Chamam de internet*. www.geekfail.net. 04.03.2015)

Assinale a alternativa em que se interpreta corretamente a tira e que está de acordo com a norma-padrão de concordância da língua portuguesa.

- (A) As pessoas não podem ser consideradas réus, pois nunca houve leis na internet.
- (B) Por estarem na internet, as pessoas julgam poderem fazerem o que bem entendem.
- (C) Internautas acreditam que a internet os isentam de culpa e que estão livres para julgar.
- (D) O julgamento emitido na internet é prática corriqueira, mas não se assumem culpas.
- (E) A existência de um lugar com juizes e sem réus desconcertam até os que já foram julgados.

Leia o texto para responder às questões de números **02** a **07**.

O carro do Beto tinha duas portas. A do passageiro não abria, então, a rota de entrada para todos era pelo lado do motorista. O banco do motorista não levantava para quem ia sentar atrás. Acomodar três pessoas exigia uma certa ginástica. Não era o veículo ideal para uma fuga de emergência, mas era o que tínhamos e, mais que isso, era o que garantia nossa liberdade e nossas infinitas possibilidades. Com ele, São Paulo era pequena para nós.

Eu tinha 16 anos, o Beto e a Solange um pouco mais do que eu. Eu acabara de voltar de um ano de intercâmbio em uma cidade no interior dos Estados Unidos e estava achando tudo muito moderno naquela São Paulo dos anos 80. O que levei comigo e trouxe de volta foi a trilha sonora: a discografia completa da Rita Lee. O programa daquele fim de semana seria uma homenagem a ela.

Pela lista telefônica, tinha descoberto o endereço do pai dela e decidi deixar uma frase pichada no muro da casa dele na Vila Mariana. Beto e Solange toparam na hora.

Tudo aconteceria de madrugada. Eles ficariam dentro do carro com o motor ligado. Eu desceria com o spray, escreveria a frase na parede, me jogaria pela janela do carro adentro, o Beto acelerava e a gente se mandava. Os medos eram muitos. E foi com o coração aos pulos de terror e emoção que escrevi no muro branco: "Rita, pra você, a agilidade do gato e o brilho da estrela". Minha mensagem adolescente de amor por Rita Lee estava registrada para toda a cidade ver.

Trinta e sete anos depois, fui com uns amigos ver uma exposição sobre a Rita Lee. Logo na entrada do museu, uma parede pintada de azul trazia a estampa da minha frase, letra por letra (acrescentaram as letras esses no "das estrelas"). Foi como se um raio tivesse me atingido na cabeça. A sensação me pareceu ter sido a mesma de quando escrevi no muro naquela madrugada: pernas bambas, coração acelerado, mãos tremendo. A minha frase na parede do museu!

Uma das monitoras da exposição quis saber o que acontecia. Eu contei a história. Ela se espantou, já que a exposição não trazia nenhuma explicação sobre a origem daquela frase. Não me importava: ela era minha e estava lá.

Deparei-me outras vezes com o meu grafite. O dia do museu, porém, foi o mais emocionante. Não era só uma menção, era uma reprodução.

(Ana Ribeiro. Frase que pichei para Rita Lee reapareceu 37 anos depois em exposição. www1.folha.uol.com.br, 19.02.2022. Adaptado)

#### 02. Assinale a alternativa que apresenta informação correta quanto ao que se afirma no texto.

- (A) A autora do texto satisfazia-se em saber que seu feito teve relevo na biografia da artista, não fazendo questão de reclamar autoria.
- (B) A transcrição fiel na parede do museu demonstrava que a frase pichada no muro ficou marcada na biografia da cantora.
- (C) A incredulidade dos amigos ao verem na exposição a pichação de que, indiretamente, participaram contagiou a autora do texto.
- (D) Entre os muitos programas que os três amigos faziam, levados pelo carro, estava o de reverenciar a artista, visitando sua exposição.
- (E) O gosto da autora do texto por Rita Lee cresceu devido à monotonia de uma cidade do interior dos Estados Unidos que lhe forçava a escutar a cantora.

03. Assinale a alternativa em que há emprego de linguagem em sentido figurado.
- (A) O banco do motorista não levantava para quem ia sentar atrás. (1º parágrafo)
  - (B) Não era o veículo ideal para uma fuga de emergência... (1º parágrafo)
  - (C) Eles ficariam dentro do carro com o motor ligado. (4º parágrafo)
  - (D) E foi com o coração na garganta pelo terror e emoção que escrevi... (4º parágrafo)
  - (E) Uma das monitoras da exposição quis saber o que acontecia. (6º parágrafo)
04. No trecho “Não me importava: ela era minha e estava lá” (6º parágrafo), os dois-pontos foram empregados para introduzir, em relação à informação que os antecede,
- (A) uma síntese.
  - (B) uma explicação.
  - (C) uma ressalva.
  - (D) uma correção.
  - (E) uma citação.
05. No trecho “Pela lista telefônica, tinha descoberto o endereço do pai dela...” (3º parágrafo), a forma verbal “tinha descoberto” corresponde a um tempo verbal que equivale ao do vocábulo destacado em:
- (A) O banco do motorista não **levantava** para quem ia sentar atrás. (1º parágrafo)
  - (B) Eu **acabara** de voltar de um ano de intercâmbio... (2º parágrafo)
  - (C) Tudo **aconteceria** de madrugada. (4º parágrafo)
  - (D) Eles **ficariam** dentro do carro com o motor ligado. (4º parágrafo)
  - (E) Eu **contei** a história. (6º parágrafo)
06. No trecho “... estava achando tudo **muito** moderno naquela São Paulo dos anos 80” (2º parágrafo), o vocábulo destacado foi empregado com a mesma função gramatical que na frase:
- (A) Há **muito** tem-se notado que a prática do intercâmbio é saudável para jovens.
  - (B) **Muito** medo cercava a prática da atividade ilícita e mostra de subversão juvenil.
  - (C) As histórias eram tão fantásticas, que era difícil crer em **muito** do que dizia.
  - (D) A escritora viu sua frase retratada na exposição e orgulhou-se sem **muito** alarde.
  - (E) A frase escrita em homenagem à cantora no muro era **muito** simples, mas marcante.
07. Assinale a alternativa em que o vocábulo destacado teve sua posição alterada em relação ao trecho original, mantendo-se a correção da norma-padrão de colocação pronominal da língua portuguesa:
- (A) ... escreveria a frase na parede, jogaria-**me** pela janela do carro adentro...
  - (B) Foi como se um raio tivesse atingido-**me** na cabeça.
  - (C) A sensação pareceu-**me** ter sido a mesma de quando escrevi...
  - (D) Não importava-**me**: ela era minha e estava lá.
  - (E) **Me** deparei outras vezes com o meu grafite.
08. Assinale a alternativa em que a expressão está corretamente reescrita nos colchetes, segundo a norma-padrão da língua portuguesa.
- (A) O carro do amigo tinha duas portas.  
[O carro do amigo tinha-lhes]
  - (B) Levei comigo a discografia completa.  
[Levei-la comigo]
  - (C) Decidi deixar uma mensagem para Rita.  
[Decidi deixar-la para Rita]
  - (D) Os amigos aceitaram a proposta prontamente.  
[Os amigos aceitaram-na prontamente]
  - (E) Uns amigos foram comigo ver a exposição.  
[Uns amigos foram comigo ver-na]
09. A sensação experimentada pela autora do texto \_\_\_\_\_ ver sua frase de 37 anos atrás pode ser comparada \_\_\_\_\_ uma corrente elétrica que \_\_\_\_\_ atravessou o corpo e \_\_\_\_\_ paralisou.
- As lacunas da frase são, correta e respectivamente, completadas por:
- (A) por ... de ... se ... a
  - (B) de ... a ... a ... lhe
  - (C) em ... de ... lhe ... lhe
  - (D) ao ... a ... lhe ... a
  - (E) pelo ... com ... a ... a
10. O acento indicativo de crase foi corretamente empregado na frase:
- (A) Cartunistas são chamados à apresentarem seus trabalhos nos jornais.
  - (B) O jornal tinha uma seção em que pessoas contavam às suas histórias.
  - (C) Os jovens escolheram fazer tudo às escondidas, pois cometiam um ato ilegal.
  - (D) A frase sensibilizou à própria Rita Lee, que a incluiu em sua própria obra.
  - (E) A tirinha leva os leitores a refletirem sobre à triste realidade das redes sociais.

11. A construção do Meu PET, Hospital Veterinário de Santa Bárbara d'Oeste, irá oferecer serviços gratuitos para cães e gatos. A unidade terá 480 m<sup>2</sup> de área construída, com salas cirúrgicas, de medicação, internação e equipamentos para ofertar atendimento regionalizado aos animais domésticos. O investimento entre obra e equipamentos é de R\$ 6 milhões.

(Disponível em: <https://www.santabarbara.sp.gov.br/portal/noticias/0/3/69772/segue-a-construcao-do-meu-pet-hospital-veterinario-de-santa-barbara>. Acesso em: 15 de abr. de 2023.

Adaptado)

Considerando que o valor do metro quadrado na construção civil seja de R\$ 1.600,00, o valor do investimento destinado a equipamentos é de

- (A) R\$ 5.184.000,00.
  - (B) R\$ 5.232.000,00.
  - (C) R\$ 5.325.000,00.
  - (D) R\$ 5.456.000,00.
  - (E) R\$ 5.568.000,00.
12. A imagem a seguir apresenta um boleto, no valor de R\$ 123,00, cujo vencimento era dia 10 de abril de 2023.

Local de pagamento		CNPJ do Cedente		10/04/2023	
PAGAVEL EM QUALQUER BANCO.					
Cedente					
Data de Documento		Número do Documento		Espécie Doc.	
				DMI	
				S	
				I	
				Data de Processamento	
				Número	
Use do Banco		Carteira		Espécie	
0		1		RS	
				Quantidade	
				Valor	
				R\$ 123,00	
Instruções (Todas as informações deste bloquete são de exclusiva responsabilidade do cedente)					
APÓS O VENCIMENTO COBRAR MULTA DE 2,00%.					
APÓS O VENCIMENTO COBRAR JUROS DE R\$ 0,33 AO DIA.					
				(-) Desconto/Abatimento	
				(-) Outras Deduções	
				(+) Mora/Multa	
				(+) Outras Acommod.	
				(+) Valor Cobrado	

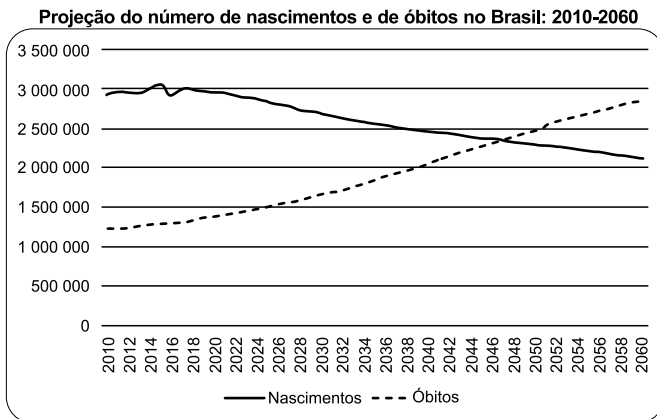
(Elaborado pelo autor.)

Sabendo que dia 10 de abril desse ano foi um dia útil e considerando que esse boleto foi pago, com atraso, no dia 20.04.2023, então o valor cobrado foi de

- (A) R\$ 125,79.
- (B) R\$ 126,32.
- (C) R\$ 127,82.
- (D) R\$ 128,76.
- (E) R\$ 129,08.

13. Duas pessoas caminham pela mesma trajetória, partindo ambas do mesmo ponto, ao mesmo tempo. Uma delas consegue estabelecer uma média de 120 passos por minuto, enquanto que a outra dá somente  $\frac{4}{5}$  das passadas e vai ficando para trás. Se, em ambos os casos, as duas pessoas conseguem percorrer, em cada passo, um trecho de 40 cm, a distância entre elas ao final de meia hora será de
- (A) 288 m.  
 (B) 340 m.  
 (C) 486 m.  
 (D) 618 m.  
 (E) 720 m.

14. Segundo a projeção do IBGE, o número de nascimentos no Brasil deverá se igualar ao número de óbitos no país por volta do ano de 2046. Veja o gráfico mostrando essa projeção:



Fonte: IBGE, Projeções Popacionais, Rev. 2018 <https://www.ibge.gov.br/>

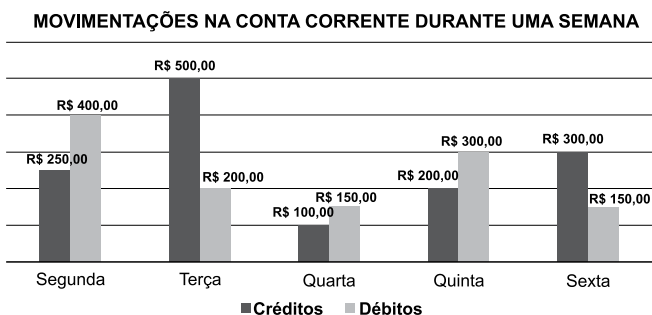
(Disponível em: <https://www.ecodebate.com.br/2021/07/19/dinamica-demografica-nascimentos-e-obitos-em-sao-paulo/>. Acesso em: 21.04.2023.)

Sabendo que o crescimento e decréscimo da população depende da relação entre o número de nascimentos e o número de óbitos e, com base nos dados do gráfico, é correto afirmar que a população brasileira

- (A) irá estabilizar em 2046 e a partir desse ano manter-se-á constante.  
 (B) entrou em decréscimo no ano de 2020, início da pandemia.  
 (C) começará a sofrer um decréscimo a partir do ano de 2046.  
 (D) terá um crescimento populacional a partir do ano de 2046.  
 (E) já se encontra em decréscimo desde o ano de 2017.

15. Uma gaveta de formato retangular, vista de cima, possui dimensões internas de 90 cm de comprimento por 63 cm de largura. Para que a gaveta seja utilizada como um organizador de bijuterias, o marceneiro irá fazer repartições quadradas iguais de tal modo que os quadrados fiquem com o maior tamanho possível. Nas condições apresentadas e desprezando as espessuras das divisórias que serão utilizadas, o número de repartições que a gaveta terá será de
- (A) 65.  
 (B) 70.  
 (C) 75.  
 (D) 81.  
 (E) 90.
16. O estoque de uma empresa possui dois tipos de produtos, A e B, sendo que, em um determinado dia, a quantidade de produtos do tipo B era 40% menor que a quantidade de produtos do tipo A. No dia seguinte, foram acrescentadas a esse estoque 30 unidades de produtos do tipo A e 60 unidades de produtos do tipo B, de tal modo que o estoque de produtos A ficou 20% maior que a quantidade de produtos B. Considerando que não houve saída no estoque, após as entradas citadas, a quantidade total de produtos dos dois tipos no estoque ficou em
- (A) 240.  
 (B) 260.  
 (C) 300.  
 (D) 330.  
 (E) 350.

17. O gráfico a seguir apresenta o total de valores creditados e debitados diariamente em uma conta corrente em cada dia de uma determinada semana.



(Elaborado pelo autor.)

Considerando o saldo diário como a diferença entre o total de créditos e total de débitos na conta corrente em cada dia, a média dos saldos diários dessa semana foi de

- (A) R\$ 30,00.  
 (B) R\$ 50,00.  
 (C) R\$ 80,00.  
 (D) R\$ 120,00.  
 (E) R\$ 150,00.

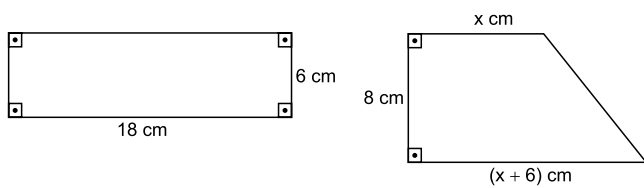
18. Uma empresa que revende determinado produto possui um gasto fixo mensal de R\$ 3.500,00. O custo individual desse produto para a empresa é de R\$ 30,00 e seu preço de venda é de R\$ 51,00. Com base nos dados apresentados e lembrando que o lucro é dado pela diferença entre a venda e o custo, para que a empresa tenha um lucro de pelo menos R\$ 2.000,00, o número mínimo de produtos que deverá ser vendido em cada mês é de

- (A) 96.
- (B) 108.
- (C) 167.
- (D) 215.
- (E) 262.

19. Um tanque com o formato de um paralelepípedo possui dimensões 50 cm X 50 cm X 30 cm e está totalmente vazio. Nele foi acoplada uma torneira com vazão constante que encheu o tanque em 4 minutos e 10 segundos. Sabendo que  $1 \text{ dm}^3$  equivale a 1 litro, então, a vazão dessa torneira, em litros por segundo, é igual a

- (A) 0,3.
- (B) 0,5.
- (C) 0,9.
- (D) 3,1.
- (E) 3,3.

20. Duas placas metálicas possuem formatos de um retângulo e de um trapézio retângulo. As medidas dessas placas estão apresentadas na figura a seguir.



*Figuras fora de escala*

(Elaborado pelo autor.)

Sabendo que ambas as placas possuem a mesma área, é correto afirmar que o perímetro da placa retangular supera o perímetro da placa trapezoidal em

- (A) 7 cm.
- (B) 6 cm.
- (C) 5 cm.
- (D) 4 cm.
- (E) 3 cm.

## CONHECIMENTOS ESPECÍFICOS

21. Nas organizações busca-se, cada vez mais, formar equipes de trabalho que atuem com gradativos e maiores níveis de excelência. Nesse contexto, é importante que
- (A) as habilidades e competências necessárias para o alcance de objetivos sejam definidas pela área de recursos humanos, sem a participação dos supervisores.
  - (B) cada membro da equipe tenha condições de possuir as mesmas habilidades e competências que os demais, de tal modo que no conjunto a equipe se torne homogênea.
  - (C) os líderes de equipes tenham elevada qualificação técnica, prescindindo de habilidades de relacionamento humano ou de uma capacidade específica para construir equipes de trabalho.
  - (D) a equipe seja constituída por pessoas com diferentes competências que, no conjunto, sejam essenciais ao cumprimento da tarefa e ao alcance dos objetivos.
  - (E) todos os membros da equipe sejam preparados para atuar com uniformidade, de modo que as situações e os problemas sejam vistos e abordados pelo mesmo ângulo.
22. No processo completo de comunicação, o componente *fonte* corresponde
- (A) à pessoa ou grupo que emite as mensagens para comunicar.
  - (B) à busca inicial do equipamento que transportará a mensagem.
  - (C) ao alcance pretendido com a informação transmitida.
  - (D) ao ambiente em que ocorre a troca de informações.
  - (E) às condições que deturpam ou alteram o conteúdo das mensagens.
23. Há diferentes métodos de comunicação utilizados nas organizações. Um deles ocorre em conversas informais, no processo de trabalho, em reuniões de equipes, em discursos formais e discussões em grupo. A habilidade nesse tipo de comunicação tem sido considerada um dos principais critérios para a contratação de profissionais. Trata-se da comunicação
- (A) escrita.
  - (B) programada.
  - (C) oral.
  - (D) não-verbal.
  - (E) pública.

24. Leia o texto.

\_\_\_\_\_,  
É com prazer que convidamos \_\_\_\_\_ para a abertura dos Jogos Estudantis de 2023. Nossa escola sediará os jogos de abertura do evento, no dia 12 de junho. Contamos com \_\_\_\_\_ presença.

\_\_\_\_\_,  
Comissão Organizadora

De acordo com o *Manual de Redação da Presidência da República*, as lacunas do texto devem ser preenchidas, correta e respectivamente, com:

- (A) Senhor Prefeito ... Vossa Excelência ... sua ... Respeitosamente
- (B) Ilustríssimo Prefeito ... Sua Excelência ... sua ... Atenciosamente
- (C) Excelentíssimo Senhor Prefeito ... Vossa Senhoria ... vossa ... Atenciosamente
- (D) Senhor Prefeito ... Vossa Excelência ... vossa ... Sem mais para o momento
- (E) Excelentíssimo Prefeito ... Sua Excelência ... sua ... Nossos votos de estima

25. Considere as informações:

- é utilizado apenas na primeira página do documento, centralizado na área determinada pela formatação;
- contém o brasão de Armas da República no topo da página, o nome do órgão principal; o nome dos órgãos secundários, quando necessários, da maior para a menor hierarquia; e espaçamento entrelinhas simples (1,0).

As informações apresentadas referem-se à seguinte parte de um documento no padrão ofício:

- (A) assunto.
- (B) expediente.
- (C) endereçamento.
- (D) cabeçalho.
- (E) texto do documento.



- 26.** Assinale a alternativa que contempla apenas entes da Administração Pública Direta.
- (A) Ministério Público e Tribunal de Contas.
  - (B) Secretaria Municipal e Empresa Pública Estadual.
  - (C) Ministério da Fazenda e Procuradoria Geral do Estado.
  - (D) Sociedade de Economia Mista e Corregedoria-Geral da Administração.
  - (E) Polícia Civil e Autarquia Estadual.
- 27.** A respeito da origem e características da denominada Administração gerencial, é correto afirmar que
- (A) seu modelo surgiu basicamente com o advento do Estado Liberal, buscando romper com o modelo anterior, patrimonialista.
  - (B) seus procedimentos formais são executados por funcionários especializados, com competências fixas, sujeitos ao controle hierárquico.
  - (C) Max Weber foi o primeiro teórico desse modelo de administração, baseado na racionalidade, entendida como a adequação dos meios aos fins.
  - (D) a sua idealização tinha como uma das características a previsibilidade do seu funcionamento contribuindo para a obtenção de maior eficiência organizacional.
  - (E) a primeira tentativa de sua introdução no Brasil, deu-se em 1967, no Governo Castelo Branco, por meio do Decreto-Lei nº 200.
- 28.** Assinale a alternativa correta a respeito dos servidores públicos.
- (A) O subsídio é uma espécie de remuneração destinada exclusivamente ao pagamento dos servidores da administração indireta.
  - (B) É vedado aos Poderes Executivo, Legislativo e Judiciário divulgar os valores da remuneração dos cargos e empregos públicos.
  - (C) Os professores podem obter aposentadoria com idade mínima reduzida em 5 (cinco) anos, comprovando tempo de magistério no ensino fundamental, médio ou superior.
  - (D) É assegurado o reajustamento dos benefícios para preservar o seu valor real, devendo a lei regulamentar a forma de contagem de tempo de contribuição fictício.
  - (E) Se extinto o seu cargo, o servidor estável ficará em disponibilidade, com remuneração proporcional ao tempo de serviço, até seu adequado aproveitamento em outro cargo.
- 29.** Considerando a classificação dos atos administrativos, assinale a alternativa que contempla corretamente um ato discricionário e precário.
- (A) Autorização.
  - (B) Licença.
  - (C) Homologação.
  - (D) Visto.
  - (E) Admissão.
- 30.** A Lei nº 8.666/93 estabelece que a habilitação preliminar no procedimento licitatório, bem como a inscrição em registro cadastral e as propostas serão processadas e julgadas, em regra, por comissão permanente ou especial de,
- (A) no máximo, 3 servidores qualificados escolhidos pela autoridade máxima do órgão público responsável pela licitação.
  - (B) no mínimo, 3 membros, sendo pelo menos 1 deles servidor qualificado dos quadros permanentes do órgão público licitante.
  - (C) no mínimo, 3 membros, sendo pelo menos 2 deles servidores qualificados dos quadros permanentes do órgão público licitante.
  - (D) no máximo, 3 membros, sendo pelo menos 2 deles servidores qualificados dos quadros permanentes do órgão público licitante.
  - (E) no máximo, 5 membros, sendo pelo menos 3 deles servidores escolhidos pela autoridade máxima do órgão público responsável pela licitação.
- 31.** A empresa ABC foi vencedora de um procedimento licitatório e estava executando regularmente o respectivo contrato. Todavia, posteriormente, o contrato foi declarado nulo pela Administração. Nessa situação hipotética, segundo dispõe a Lei nº 8.666/93, é correto afirmar que a declaração de nulidade
- (A) terá efeitos retroativos, impedindo os efeitos que o contrato produziria, desconstituindo os já produzidos e que a empresa ABC terá direito à eventual indenização, se ela não foi a responsável pela nulidade.
  - (B) não terá efeitos retroativos, mas impedirá os efeitos futuros do contrato e a empresa ABC terá direito à eventual indenização se ela não foi a responsável pela nulidade.
  - (C) terá efeitos retroativos, impedindo os efeitos que o contrato produziria, desconstituindo os já produzidos, mas a empresa ABC não terá direito à indenização, independentemente de quem seja responsável pela nulidade.
  - (D) não terá efeitos retroativos, mas impedirá os efeitos futuros do contrato, e a empresa ABC não terá direito à indenização, independentemente de quem seja responsável pela nulidade.
  - (E) terá efeitos retroativos, invalidando integralmente o contrato e exonerando a Administração do dever de indenizar o contratado pelo que este houver eventualmente executado até a data da declaração da nulidade.

- 32.** Suponha que uma autoridade administrativa tenha tido conhecimento de fatos que constituem indícios da prática de improbidade. Segundo a Lei nº 8.429/92, nessa situação, ela deverá
- (A) mandar instaurar o inquérito civil público para a devida apuração.
  - (B) comunicar a autoridade policial competente para a abertura do inquérito.
  - (C) oficiar ao Poder Judiciário para as medidas judiciais cabíveis.
  - (D) representar ao Ministério Público para as providências necessárias.
  - (E) comunicar ao seu superior hierárquico para aplicação das penalidades cabíveis.
- 33.** Conforme estabelece a Lei nº 8.429/92, a ação por improbidade administrativa
- (A) é repressiva, de caráter sancionatório e destinada à aplicação de sanções de caráter pessoal.
  - (B) constitui ação civil, tem caráter punitivo e indenizatório e será proposta pelo Ministério Público.
  - (C) será ajuizada para o controle de legalidade de políticas públicas por intermédio do Ministério Público.
  - (D) é destinada à proteção do patrimônio público e social, do meio ambiente e de outros interesses difusos, coletivos e individuais homogêneos.
  - (E) pode ser ajuizada pelos entes públicos, com o objetivo de buscar ressarcimento do erário e promover as suas políticas públicas.
- 34.** Considerando o disposto na Lei Orgânica do Município no tocante à política urbana, é correto afirmar que
- (A) a Lei Orgânica Municipal será o instrumento básico da política de desenvolvimento e de expansão urbana.
  - (B) a propriedade urbana cumprirá sua função social quando atender ao interesse das classes menos privilegiadas do Município.
  - (C) as desapropriações de imóveis urbanos e rurais deverão ser feitas com prévia e justa indenização em dinheiro.
  - (D) de acordo com lei específica do Município, o hipossuficiente poderá ser isento de imposto sobre propriedade predial e territorial urbana.
  - (E) a maior oneração tributária dos terrenos urbanos vazios é um instrumento que visa assegurar a função social da propriedade urbana.
- 35.** Segundo o Regimento Interno da Câmara Municipal, o Presidente
- (A) poderá fazer parte de qualquer Comissão Permanente ou Temporária.
  - (B) não poderá fazer parte de qualquer Comissão Permanente ou Temporária, salvo a de Representação.
  - (C) não poderá fazer parte de qualquer Comissão Permanente ou Temporária, salvo a Comissão de Ética.
  - (D) não poderá fazer parte de qualquer Comissão Permanente ou Temporária, salvo a Comissão Especial de Inquérito.
  - (E) não poderá fazer parte de qualquer Comissão Permanente ou Temporária, salvo a de Justiça e Redação.
- 36.** Bárbara é vereadora e membro de uma Comissão Permanente da Casa Legislativa. Contudo, ela não compareceu a uma das suas reuniões. Nessa situação hipotética, segundo o disposto no Regimento Interno da Câmara Municipal, é correto afirmar que
- (A) Bárbara ficará suspensa de suas funções na Comissão e não poderá participar das próximas duas reuniões.
  - (B) o Presidente da Comissão deverá comunicar a ausência de Bárbara à Presidência da Casa, para as penalidades cabíveis.
  - (C) o Presidente da Câmara, a requerimento do Presidente da Comissão, designará substituto eventual, por indicação do Líder do Partido a que pertencer Bárbara.
  - (D) o Presidente da Câmara, a pedido do Presidente da Comissão, designará por sua livre escolha, eventual substituto de Bárbara.
  - (E) o Presidente da Comissão deverá convocar extraordinariamente o vereador suplente para substituir Bárbara.
- 37.** A Resolução nº 05/2022 da Câmara Municipal dispõe que, em regra, a jornada de trabalho dos servidores é 30 (trinta) horas semanais efetivamente trabalhadas, salvo para os cargos de
- (A) confiança e de Assistente Administrativo.
  - (B) Procurador da Câmara e de Jornalista.
  - (C) Enfermeiro e Segurança.
  - (D) Jornalista e Assessor Parlamentar.
  - (E) Analista e Procurador da Câmara.

- 38.** Conforme dispõe a Lei Orgânica do Município, o suplente de Vereador será convocado no caso de vaga. No entanto, na hipótese de não haver suplente, o Presidente da Casa deverá
- (A) determinar a realização de novas eleições diretas em 90 dias para preencher a vaga.
  - (B) realizar eleições indiretas em 30 dias para a escolha de um novo Vereador.
  - (C) comunicar o fato dentro de 48 horas diretamente ao Juiz Eleitoral do Município.
  - (D) comunicar ao Prefeito, e este indicará pessoa de sua confiança para ocupar a vaga.
  - (E) convocar o candidato com mais votos obtidos nas últimas eleições para ocupar a vaga.
- 39.** Nos termos do Regimento Interno da Câmara Municipal de Santa Bárbara D'Oeste, com a finalidade de apurar infrações político-administrativas do Prefeito, Vice-Prefeito e Vereadores no desempenho de suas funções, serão constituídas
- (A) Comissões Parlamentares de Inquérito.
  - (B) Comissões Processantes.
  - (C) Comissões de Ética.
  - (D) Comissões de Representação.
  - (E) Comissões Especiais de Inquérito.
- 40.** Nos termos da Resolução nº 04/2022 da Câmara Municipal, na hipótese de um servidor se enquadrar em situação na qual estaria apto a receber duas gratificações pelo exercício das funções de confiança, é correto afirmar que ele
- (A) terá direito a receber ambas as gratificações, sem limitação de teto remuneratório.
  - (B) terá direito a receber ambas as gratificações, mas limitadas ao teto legal remuneratório.
  - (C) não poderá acumular as gratificações, tendo direito apenas a de menor valor.
  - (D) não poderá acumular as gratificações, prevalecendo sempre a de maior valor.
  - (E) terá direito a receber cinquenta por cento de cada gratificação.

