



CÂMARA MUNICIPAL DE SANTA BÁRBARA D'OESTE

ESTADO DE SÃO PAULO

CONCURSO PÚBLICO

002. PROVA OBJETIVA

ASSISTENTE LEGISLATIVO

- ◆ Você recebeu sua folha de respostas e este caderno contendo 40 questões objetivas.
- ◆ Confira seus dados impressos na capa deste caderno e na folha de respostas.
- ◆ Quando for permitido abrir o caderno, verifique se está completo ou se apresenta imperfeições. Caso haja algum problema, informe ao fiscal da sala para a devida substituição desse caderno.
- ◆ Leia cuidadosamente todas as questões e escolha a resposta que você considera correta.
- ◆ Marque, na folha de respostas, com caneta de tinta preta, a letra correspondente à alternativa que você escolheu.
- ◆ A duração da prova é de 3 horas, já incluído o tempo para o preenchimento da folha de respostas.
- ◆ Só será permitida a saída definitiva da sala e do prédio após transcorrida 1 hora do início da prova.
- ◆ Deverão permanecer em cada uma das salas de prova os 3 últimos candidatos, até que o último deles entregue sua prova, assinando termo respectivo.
- ◆ Ao sair, você entregará ao fiscal a folha de respostas e este caderno.
- ◆ Até que você saia do prédio, todas as proibições e orientações continuam válidas.

AGUARDE A ORDEM DO FISCAL PARA ABRIR ESTE CADERNO.

Nome do candidato _____

RG _____

Inscrição _____

Prédio _____

Sala _____

Carteira _____

CONHECIMENTOS GERAIS

LÍNGUA PORTUGUESA

01. Leia a tira.



(André Dahmer. *Chamam de internet*. www.geekfail.net. 04.03.2015)

Assinale a alternativa em que se interpreta corretamente a tira e que está de acordo com a norma-padrão de concordância da língua portuguesa.

- (A) As pessoas não podem ser consideradas réus, pois nunca houve leis na internet.
- (B) Por estarem na internet, as pessoas julgam poderem fazerem o que bem entendem.
- (C) Internautas acreditam que a internet os isentam de culpa e que estão livres para julgar.
- (D) O julgamento emitido na internet é prática corriqueira, mas não se assumem culpas.
- (E) A existência de um lugar com juízes e sem réus desconcertam até os que já foram julgados.

Leia o texto para responder às questões de números **02 a 07**.

O carro do Beto tinha duas portas. A do passageiro não abria, então, a rota de entrada para todos era pelo lado do motorista. O banco do motorista não levantava para quem ia sentar atrás. Acomodar três pessoas exigia uma certa ginástica. Não era o veículo ideal para uma fuga de emergência, mas era o que tínhamos e, mais que isso, era o que garantia nossa liberdade e nossas infinitas possibilidades. Com ele, São Paulo era pequena para nós.

Eu tinha 16 anos, o Beto e a Solange um pouco mais do que eu. Eu acabara de voltar de um ano de intercâmbio em uma cidade no interior dos Estados Unidos e estava achando tudo muito moderno naquela São Paulo dos anos 80. O que levei comigo e trouxe de volta foi a trilha sonora: a discografia completa da Rita Lee. O programa daquele fim de semana seria uma homenagem a ela.

Pela lista telefônica, tinha descoberto o endereço do pai dela e decidi deixar uma frase pichada no muro da casa dele na Vila Mariana. Beto e Solange toparam na hora.

Tudo aconteceria de madrugada. Eles ficariam dentro do carro com o motor ligado. Eu desceria com o spray, escreveria a frase na parede, me jogaria pela janela do carro adentro, o Beto acelerava e a gente se mandava. Os medos eram muitos. E foi com o coração aos pulos de terror e emoção que escrevi no muro branco: "Rita, pra você, a agilidade do gato e o brilho da estrela". Minha mensagem adolescente de amor por Rita Lee estava registrada para toda a cidade ver.

Trinta e sete anos depois, fui com uns amigos ver uma exposição sobre a Rita Lee. Logo na entrada do museu, uma parede pintada de azul trazia a estampa da minha frase, letra por letra (acrescentaram as letras esses no "das estrelas"). Foi como se um raio tivesse me atingido na cabeça. A sensação me pareceu ter sido a mesma de quando escrevi no muro naquela madrugada: pernas bambas, coração acelerado, mãos tremendo. A minha frase na parede do museu!

Uma das monitoras da exposição quis saber o que acontecia. Eu contei a história. Ela se espantou, já que a exposição não trazia nenhuma explicação sobre a origem daquela frase. Não me importava: ela era minha e estava lá.

Deparei-me outras vezes com o meu grafite. O dia do museu, porém, foi o mais emocionante. Não era só uma menção, era uma reprodução.

(Ana Ribeiro. Frase que pichei para Rita Lee reapareceu 37 anos depois em exposição. www1.folha.uol.com.br, 19.02.2022. Adaptado)

02. Assinale a alternativa que apresenta informação correta quanto ao que se afirma no texto.

- (A) A autora do texto satisfazia-se em saber que seu feito teve relevo na biografia da artista, não fazendo questão de reclamar autoria.
- (B) A transcrição fiel na parede do museu demonstrava que a frase pichada no muro ficou marcada na biografia da cantora.
- (C) A incredulidade dos amigos ao verem na exposição a pichação de que, indiretamente, participaram contagiou a autora do texto.
- (D) Entre os muitos programas que os três amigos faziam, levados pelo carro, estava o de reverenciar a artista, visitando sua exposição.
- (E) O gosto da autora do texto por Rita Lee cresceu devido à monotonia de uma cidade do interior dos Estados Unidos que lhe forçava a escutar a cantora.

03. Assinale a alternativa em que há emprego de linguagem em sentido figurado.
- (A) O banco do motorista não levantava para quem ia sentar atrás. (1º parágrafo)
 - (B) Não era o veículo ideal para uma fuga de emergência... (1º parágrafo)
 - (C) Eles ficariam dentro do carro com o motor ligado. (4º parágrafo)
 - (D) E foi com o coração na garganta pelo terror e emoção que escrevi... (4º parágrafo)
 - (E) Uma das monitoras da exposição quis saber o que acontecia. (6º parágrafo)
04. No trecho “Não me importava: ela era minha e estava lá” (6º parágrafo), os dois-pontos foram empregados para introduzir, em relação à informação que os antecede,
- (A) uma síntese.
 - (B) uma explicação.
 - (C) uma ressalva.
 - (D) uma correção.
 - (E) uma citação.
05. No trecho “Pela lista telefônica, tinha descoberto o endereço do pai dela...” (3º parágrafo), a forma verbal “tinha descoberto” corresponde a um tempo verbal que equivale ao do vocábulo destacado em:
- (A) O banco do motorista não **levantava** para quem ia sentar atrás. (1º parágrafo)
 - (B) Eu **acabara** de voltar de um ano de intercâmbio... (2º parágrafo)
 - (C) Tudo **aconteceria** de madrugada. (4º parágrafo)
 - (D) Eles **ficariam** dentro do carro com o motor ligado. (4º parágrafo)
 - (E) Eu **contei** a história. (6º parágrafo)
06. No trecho “... estava achando tudo **muito** moderno naquela São Paulo dos anos 80” (2º parágrafo), o vocábulo destacado foi empregado com a mesma função gramatical que na frase:
- (A) Há **muito** tem-se notado que a prática do intercâmbio é saudável para jovens.
 - (B) **Muito** medo cercava a prática da atividade ilícita e mostra de subversão juvenil.
 - (C) As histórias eram tão fantásticas, que era difícil crer em **muito** do que dizia.
 - (D) A escritora viu sua frase retratada na exposição e orgulhou-se sem **muito** alarde.
 - (E) A frase escrita em homenagem à cantora no muro era **muito** simples, mas marcante.
07. Assinale a alternativa em que o vocábulo destacado teve sua posição alterada em relação ao trecho original, mantendo-se a correção da norma-padrão de colocação pronominal da língua portuguesa:
- (A) ... escreveria a frase na parede, jogaria-**me** pela janela do carro adentro...
 - (B) Foi como se um raio tivesse atingido-**me** na cabeça.
 - (C) A sensação pareceu-**me** ter sido a mesma de quando escrevi...
 - (D) Não importava-**me**: ela era minha e estava lá.
 - (E) **Me** deparei outras vezes com o meu grafite.
08. Assinale a alternativa em que a expressão está corretamente reescrita nos colchetes, segundo a norma-padrão da língua portuguesa.
- (A) O carro do amigo tinha duas portas.
[O carro do amigo tinha-lhes]
 - (B) Levei comigo a discografia completa.
[Levei-la comigo]
 - (C) Decidi deixar uma mensagem para Rita.
[Decidi deixar-la para Rita]
 - (D) Os amigos aceitaram a proposta prontamente.
[Os amigos aceitaram-na prontamente]
 - (E) Uns amigos foram comigo ver a exposição.
[Uns amigos foram comigo ver-na]
09. A sensação experimentada pela autora do texto _____ ver sua frase de 37 anos atrás pode ser comparada _____ uma corrente elétrica que _____ atravessou o corpo e _____ paralisou.
- As lacunas da frase são, correta e respectivamente, completadas por:
- (A) por ... de ... se ... a
 - (B) de ... a ... a ... lhe
 - (C) em ... de ... lhe ... lhe
 - (D) ao ... a ... lhe ... a
 - (E) pelo ... com ... a ... a
10. O acento indicativo de crase foi corretamente empregado na frase:
- (A) Cartunistas são chamados à apresentarem seus trabalhos nos jornais.
 - (B) O jornal tinha uma seção em que pessoas contavam às suas histórias.
 - (C) Os jovens escolheram fazer tudo às escondidas, pois cometiam um ato ilegal.
 - (D) A frase sensibilizou à própria Rita Lee, que a incluiu em sua própria obra.
 - (E) A tirinha leva os leitores a refletirem sobre à triste realidade das redes sociais.

11. A construção do Meu PET, Hospital Veterinário de Santa Bárbara d'Oeste, irá oferecer serviços gratuitos para cães e gatos. A unidade terá 480 m² de área construída, com salas cirúrgicas, de medicação, internação e equipamentos para ofertar atendimento regionalizado aos animais domésticos. O investimento entre obra e equipamentos é de R\$ 6 milhões.

(Disponível em: <https://www.santabarbara.sp.gov.br/portal/noticias/0/3/69772/segue-a-construcao-do-meu-pet-hospital-veterinario-de-santa-barbara>. Acesso em: 15 de abr. de 2023.

(Adaptado)

Considerando que o valor do metro quadrado na construção civil seja de R\$ 1.600,00, o valor do investimento destinado a equipamentos é de

- (A) R\$ 5.184.000,00.
 (B) R\$ 5.232.000,00.
 (C) R\$ 5.325.000,00.
 (D) R\$ 5.456.000,00.
 (E) R\$ 5.568.000,00.
12. A imagem a seguir apresenta um boleto, no valor de R\$ 123,00, cujo vencimento era dia 10 de abril de 2023.

Local de pagamento		CNPJ do Cedente		10/04/2023	
PAGAVEL EM QUALQUER BANCO.					
Cedente					
Data de Documento		Número do Documento		Espécie Doc.	
				DMI	
				S	
				I	
				Data de Processamento	
				Número	
Uso do Banco		Carteira		Espécie	
0		1		RS	
				Quantidade	
				Valor	
				R\$ 123,00	
Instruções (Todas as informações deste bloquete são de exclusiva responsabilidade do cedente)					
APÓS O VENCIMENTO COBRAR MULTA DE 2,00%.					
APÓS O VENCIMENTO COBRAR JUROS DE R\$ 0,33 AO DIA.					
(-) Desconto/Abatimento					
(-) Outras Deduções					
(+) Mora/Multa					
(+) Outras Acomodacões					
(+) Valor Cobrado					

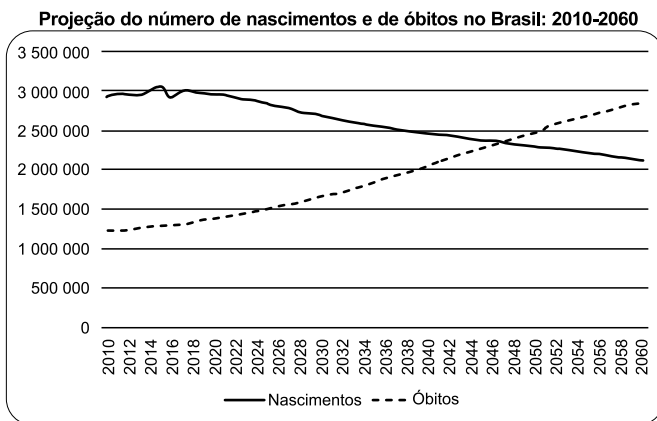
(Elaborado pelo autor.)

Sabendo que dia 10 de abril desse ano foi um dia útil e considerando que esse boleto foi pago, com atraso, no dia 20.04.2023, então o valor cobrado foi de

- (A) R\$ 125,79.
 (B) R\$ 126,32.
 (C) R\$ 127,82.
 (D) R\$ 128,76.
 (E) R\$ 129,08.

13. Duas pessoas caminham pela mesma trajetória, partindo ambas do mesmo ponto, ao mesmo tempo. Uma delas consegue estabelecer uma média de 120 passos por minuto, enquanto que a outra dá somente $\frac{4}{5}$ das passadas e vai ficando para trás. Se, em ambos os casos, as duas pessoas conseguem percorrer, em cada passo, um trecho de 40 cm, a distância entre elas ao final de meia hora será de
- (A) 288 m.
 (B) 340 m.
 (C) 486 m.
 (D) 618 m.
 (E) 720 m.

14. Segundo a projeção do IBGE, o número de nascimentos no Brasil deverá se igualar ao número de óbitos no país por volta do ano de 2046. Veja o gráfico mostrando essa projeção:



Fonte: IBGE, Projeções Populacionais, Rev. 2018 <https://www.ibge.gov.br/>

(Disponível em: <https://www.ecodebate.com.br/2021/07/19/dinamica-demografica-nascimentos-e-obitos-em-sao-paulo/>.

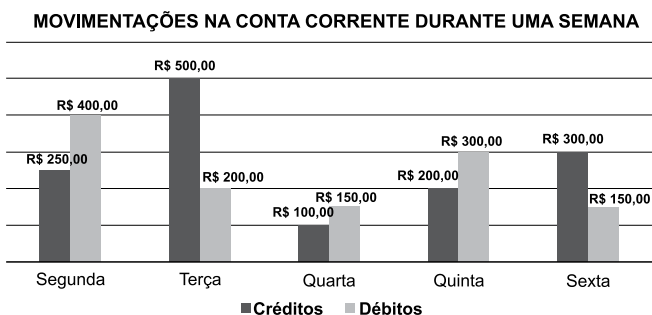
Acesso em: 21.04.2023.)

Sabendo que o crescimento e decréscimo da população depende da relação entre o número de nascimentos e o número de óbitos e, com base nos dados do gráfico, é correto afirmar que a população brasileira

- (A) irá estabilizar em 2046 e a partir desse ano manter-se-á constante.
 (B) entrou em decréscimo no ano de 2020, início da pandemia.
 (C) começará a sofrer um decréscimo a partir do ano de 2046.
 (D) terá um crescimento populacional a partir do ano de 2046.
 (E) já se encontra em decréscimo desde o ano de 2017.

15. Uma gaveta de formato retangular, vista de cima, possui dimensões internas de 90 cm de comprimento por 63 cm de largura. Para que a gaveta seja utilizada como um organizador de bijuterias, o marceneiro irá fazer repartições quadradas iguais de tal modo que os quadrados fiquem com o maior tamanho possível. Nas condições apresentadas e desprezando as espessuras das divisórias que serão utilizadas, o número de repartições que a gaveta terá será de
- (A) 65.
 (B) 70.
 (C) 75.
 (D) 81.
 (E) 90.
16. O estoque de uma empresa possui dois tipos de produtos, A e B, sendo que, em um determinado dia, a quantidade de produtos do tipo B era 40% menor que a quantidade de produtos do tipo A. No dia seguinte, foram acrescentadas a esse estoque 30 unidades de produtos do tipo A e 60 unidades de produtos do tipo B, de tal modo que o estoque de produtos A ficou 20% maior que a quantidade de produtos B. Considerando que não houve saída no estoque, após as entradas citadas, a quantidade total de produtos dos dois tipos no estoque ficou em
- (A) 240.
 (B) 260.
 (C) 300.
 (D) 330.
 (E) 350.

17. O gráfico a seguir apresenta o total de valores creditados e debitados diariamente em uma conta corrente em cada dia de uma determinada semana.



(Elaborado pelo autor.)

Considerando o saldo diário como a diferença entre o total de créditos e total de débitos na conta corrente em cada dia, a média dos saldos diários dessa semana foi de

- (A) R\$ 30,00.
 (B) R\$ 50,00.
 (C) R\$ 80,00.
 (D) R\$ 120,00.
 (E) R\$ 150,00.

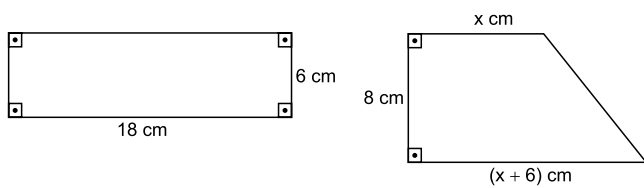
18. Uma empresa que revende determinado produto possui um gasto fixo mensal de R\$ 3.500,00. O custo individual desse produto para a empresa é de R\$ 30,00 e seu preço de venda é de R\$ 51,00. Com base nos dados apresentados e lembrando que o lucro é dado pela diferença entre a venda e o custo, para que a empresa tenha um lucro de pelo menos R\$ 2.000,00, o número mínimo de produtos que deverá ser vendido em cada mês é de

- (A) 96.
- (B) 108.
- (C) 167.
- (D) 215.
- (E) 262.

19. Um tanque com o formato de um paralelepípedo possui dimensões 50 cm X 50 cm X 30 cm e está totalmente vazio. Nele foi acoplada uma torneira com vazão constante que encheu o tanque em 4 minutos e 10 segundos. Sabendo que 1 dm^3 equivale a 1 litro, então, a vazão dessa torneira, em litros por segundo, é igual a

- (A) 0,3.
- (B) 0,5.
- (C) 0,9.
- (D) 3,1.
- (E) 3,3.

20. Duas placas metálicas possuem formatos de um retângulo e de um trapézio retângulo. As medidas dessas placas estão apresentadas na figura a seguir.



Figuras fora de escala

(Elaborado pelo autor.)

Sabendo que ambas as placas possuem a mesma área, é correto afirmar que o perímetro da placa retangular supera o perímetro da placa trapezoidal em

- (A) 7 cm.
- (B) 6 cm.
- (C) 5 cm.
- (D) 4 cm.
- (E) 3 cm.

CONHECIMENTOS ESPECÍFICOS

21. Considerando a ética no serviço público, a conduta de um funcionário público em aceitar presentes no exercício de sua função pode representar uma violação ética relacionada
- (A) à civilidade.
 - (B) à eficiência.
 - (C) ao decoro.
 - (D) ao profissionalismo.
 - (E) à competência.
22. Considerando as suas características jurídicas, é correto afirmar que a disciplina hierárquica no serviço público permite
- (A) a aplicação de sanções para a prática de crimes e contravenções penais.
 - (B) a restrição ao uso e gozo de direitos individuais em prol da sociedade.
 - (C) aplicação de penalidades em decorrência do exercício do poder da polícia.
 - (D) a renúncia de competências administrativas por parte do superior hierárquico.
 - (E) avocar atribuições e punir infrações funcionais.
23. Considerando as características das entidades da administração pública indireta, assinale a alternativa que contempla aquela que deve ser criada por lei específica, tem prazo processual em dobro e suas dívidas judiciais são pagas por meio de precatórios.
- (A) Empresa pública.
 - (B) Sociedade de economia mista.
 - (C) Autarquia.
 - (D) Estatal.
 - (E) Agência reguladora.
24. Medusa é prefeita municipal e editou decreto expropriatório, obedecendo aos trâmites legais, declarando de utilidade pública um imóvel de propriedade de Narciso, com o objetivo de instalar um hospital público no local. Ocorre que a real intenção de Medusa é se vingar de Narciso, que é seu adversário político. Nessa situação hipotética, considerando o direito administrativo brasileiro, é correto afirmar que a conduta de Medusa é
- (A) válida, tendo em vista que não importa a intenção do administrador, mas sim o ato administrativo por ele praticado.
 - (B) inválida, tendo em vista que ela agiu com desvio de poder.
 - (C) inválida, mas poderá ser convalidada se o hospital for efetivamente instalado.
 - (D) passível de ser validada se Narciso concordar com a desapropriação.
 - (E) inválida, mas somente o Judiciário poderá anular o procedimento, não podendo a própria administração fazê-lo.
25. Sinvaldo é Prefeito Municipal e expediu um decreto determinando que em todas as obras a serem realizadas no Município seja afixado cartaz com os seguintes dizeres: "*Obra realizada pelo Prefeito Sinvaldo em benefício da população do Município.*" Nessa situação hipotética, considerando o disposto na Constituição Federal, é correto afirmar que o ato do Prefeito
- (A) atende ao princípio da publicidade.
 - (B) cumpre com o princípio da transparência.
 - (C) viola o princípio da impessoalidade.
 - (D) não ofende a Constituição se houver a respectiva verba orçamentária.
 - (E) ofende a Constituição por ter sido feito por decreto e não por meio de lei.
26. Determinado Prefeito procedeu a contratação de agentes públicos por tempo determinado. Segundo a Constituição da República, é correto afirmar que esse tipo de contratação
- (A) é permitida, desde que haja lei autorizando a contratação, mas apenas para os cargos de direção, chefia e assessoramento.
 - (B) é expressamente vedada, em toda e qualquer situação.
 - (C) será autorizada quando houver urgência para atender necessidade das áreas da saúde e da segurança pública.
 - (D) é permitida, a ser estabelecida por lei, para atender a necessidade temporária de excepcional interesse público.
 - (E) poderá ser legalmente realizada, mas dependerá de decreto do Chefe do poder Executivo Municipal, que especificará a urgência e a necessidade do serviço público.

27. Quando o administrador público executa uma decisão em face do administrado, sem necessidade da tutela judicial, ele está praticando um ato
- (A) de cunho político.
 - (B) caracterizado como arbitrário.
 - (C) eivado de nulidade.
 - (D) do tipo vinculado.
 - (E) baseado em um atributo do ato.
28. O Presidente de uma Câmara Municipal gastou 65% de sua receita com a sua folha de pagamento. Nessa situação hipotética, segundo o disposto na Constituição Federal, essa conduta do Presidente da Casa Legislativa
- (A) não violou as regras da Constituição, visto que o percentual de gastos não ultrapassou o limite constitucional, desde que no referido valor tenha sido incluído o gasto com o subsídio dos Vereadores.
 - (B) violou a Constituição, uma vez que o percentual máximo de gastos, incluídos os subsídios dos Vereadores, é de cinquenta por cento.
 - (C) não violou as regras da Constituição, tendo em vista que o percentual máximo de gastos estabelecido pelo texto constitucional, não incluídos os subsídios dos Vereadores, é de sessenta por cento.
 - (D) não violou a Constituição, uma vez que o percentual máximo de gastos estabelecido pelo texto constitucional, incluídos os subsídios dos Vereadores, é de sessenta e cinco por cento.
 - (E) violou a Constituição, uma vez que o percentual máximo de gastos previsto no texto constitucional, não incluídos os subsídios dos Vereadores, é de setenta por cento.
29. A respeito da fiscalização do Município é correto afirmar que
- (A) o Prefeito tem poderes para propor a criação de um órgão de contas, por meio de um projeto de lei, para fiscalização das contas da Prefeitura.
 - (B) o parecer prévio emitido pelo órgão de fiscalização das contas do Município poderá ser rejeitado por decisão da maioria simples dos membros da Câmara Municipal.
 - (C) a fiscalização do Município será exercida pelo Poder Judiciário Estadual mediante controle interno, e pelos sistemas de controle externo do Poder legislativo Municipal.
 - (D) o contribuinte pode questionar a legitimidade das contas do Município, que devem ficar à disposição para exame e apreciação durante sessenta dias, anualmente.
 - (E) a competência para fiscalizar as contas do Município é do Ministério Público, que deverá emitir parecer para apreciação e julgamento do Tribunal de Contas.
30. José cometeu ato de improbidade administrativa que resultou em prejuízo aos cofres do Município. Ajuizada a competente ação por improbidade administrativa, a fim de garantir a integral recomposição do erário, a respectiva legislação permite que seja decretada, sem a oitiva prévia de José,
- (A) a indisponibilidade de seus bens, que não poderá incidir sobre qualquer quantia depositada em caderneta de poupança.
 - (B) a perda de seus bens, incluindo bens móveis, imóveis e depósitos em caderneta de poupança e conta corrente.
 - (C) a indisponibilidade de seus bens, que poderá incidir sobre a quantia de até 40 (quarenta) salários mínimos depositados em caderneta de poupança.
 - (D) a perda de seus bens, incluindo bens móveis, imóveis, exceto sobre depósitos em caderneta de poupança e conta corrente.
 - (E) a indisponibilidade de seus bens, que poderá incidir sobre a quantia depositada em caderneta de poupança que supere 40 (quarenta) salários mínimos.
31. Como se sabe, as emendas à Constituição Federal, para serem admitidas e aprovadas, exigem determinados requisitos. Contudo, elas também são submetidas a certas limitações. Nesse sentido, assinale a alternativa que corresponde aos tipos de limitações que, respectivamente, vedam a deliberação de proposta de emenda tendente a abolir a forma federativa do Estado e que impedem a tramitação de proposta de emenda durante o estado de sítio ou de defesa.
- (A) Circunstancial e temporal.
 - (B) Material e circunstancial.
 - (C) Temporal e material.
 - (D) Procedimental e circunstancial.
 - (E) Substancial e procedimental.
32. Considerando o processo legislativo previsto na Constituição Federal, é correto afirmar que o veto do Presidente da República ao projeto de lei
- (A) pode ser condicional ou a termo.
 - (B) deve ser exercido no prazo de 10 dias úteis.
 - (C) será tácito quando não exercido no prazo.
 - (D) pode ser parcial, incidindo sobre alíneas, incisos e palavras.
 - (E) deve ser comunicado em 48 horas ao Presidente do Senado.

33. Assinale a alternativa correta a respeito do processo legislativo em âmbito municipal.

- (A) O decreto-legislativo é norma cujo conteúdo será obrigatoriamente matéria de competência exclusiva da Câmara Municipal e que produz efeitos externos a ela, destinada a regular matéria que exceda os limites da economia interna da Câmara, mas não sujeita à sanção do Prefeito, sendo promulgada pelo Presidente.
- (B) A lei ordinária regulamentadora é norma reguladora de matéria de competência exclusiva da Câmara Municipal que produz efeitos internos políticos ou administrativos, sendo proposição não sujeita à sanção do Prefeito e promulgada pelo Presidente.
- (C) O requerimento é a proposição em que é sugerida à Câmara sobre determinado assunto, para aplaudir, hipotecar solidariedade, apresentar apoio, apelar, protestar ou repudiar ato e que deverá ser subscrita por dois terços dos vereadores.
- (D) A Lei Orgânica do Município poderá ser emendada mediante proposta de dois terços dos membros da Câmara Municipal, do Prefeito, ou subscrita por, no mínimo, dez por cento dos eleitores do Município e será promulgada pela Mesa da Câmara com o respectivo número de ordem.
- (E) A publicação é o ato que atesta a existência da lei e, havendo omissão do Prefeito sobre projeto, cumpre ao Presidente da Câmara de Vereadores mandar publicá-lo, sem demora.

Para responder às questões de números **34** a **37**, considere o *Manual de Redação da Presidência da República*.

34. Assinale a alternativa que apresenta uma afirmação correta relacionada ao uso do vocativo em correspondências oficiais.

- (A) O vocativo, que é uma invocação ao destinatário, não deverá ser seguido de vírgula.
- (B) Utiliza-se o respectivo pronome de tratamento e o cargo, seguido de vírgula.
- (C) Em comunicações dirigidas aos Chefes de Poder, utiliza-se a expressão Ilustríssimo Senhor ou Ilustríssima Senhora e o cargo respectivo, sem a vírgula.
- (D) Uma comunicação oficial dirigida a um Chefe de Poder receberá o vocativo Prezado Senhor ou Prezada Senhora e o cargo respectivo, seguido de vírgula.
- (E) Em comunicação com particular, é correto o uso do vocativo Ilustríssimo Senhor ou Digníssima Senhora.

35. Conforme consta em “Partes do documento no padrão ofício”, é correta a seguinte afirmação:

- (A) Caso o ofício tenha mais de uma página, o cabeçalho deve ser utilizado em todas elas.
- (B) Na identificação, o nome do documento deve ser registrado de forma abreviada, com todas as letras maiúsculas.
- (C) O dia do mês deve ser grafado em numeração ordinal, se for o primeiro dia do mês, e em numeração cardinal para os demais dias do mês.
- (D) Se o número que indica o dia do mês tiver apenas um dígito, deve-se utilizar zero à esquerda do número.
- (E) O nome do mês deve ser escrito com inicial maiúscula e depois da data não deve haver ponto final.

36. Sobre os fechos, o *Manual de Redação da Presidência da República* estabeleceu, para todas as modalidades de comunicação oficial:

- (A) “Atenciosamente,” para autoridades de hierarquia superior à do remetente.
- (B) “Respeitosamente,” para autoridades de mesma hierarquia.
- (C) “Cordialmente,” para autoridades de mesma hierarquia ou inferior.
- (D) “Com nossos melhores cumprimentos,” para autoridades de hierarquia inferior.
- (E) emprego de somente dois fechos diferentes.

37. Considere parte do corpo de texto de um ofício encaminhado a um Governador de Estado e assinale a alternativa que completa, correta e respectivamente, as lacunas.

Queremos _____ para a cerimônia de premiação dos finalistas do concurso “Jovem Empreendedor”, realizado no âmbito da Secretaria Estadual de Educação com alunos das escolas técnicas da Capital. Na cerimônia, a Coordenadora Chefe da área de Empreendedorismo desta secretaria anunciará os projetos do próximo ano para nossas escolas. Contamos com _____ honrosa presença.

- (A) convidar-vos ... vossa ... Respeitosamente,
- (B) convidar-vos ... sua ... Respeitosamente,
- (C) convidá-lo ... vossa ... Atenciosamente,
- (D) convidá-lo ... sua ... Respeitosamente,
- (E) convidar-vos ... vossa ... Atenciosamente,

- 38.** Conforme dispõe a Lei Orgânica do Município, o suplente de Vereador será convocado no caso de vaga. No entanto, na hipótese de não haver suplente, o Presidente da Casa deverá
- (A) determinar a realização de novas eleições diretas em 90 dias para preencher a vaga.
 - (B) realizar eleições indiretas em 30 dias para a escolha de um novo Vereador.
 - (C) comunicar o fato dentro de 48 horas diretamente ao Juiz Eleitoral do Município.
 - (D) comunicar ao Prefeito, e este indicará pessoa de sua confiança para ocupar a vaga.
 - (E) convocar o candidato com mais votos obtidos nas últimas eleições para ocupar a vaga.
- 39.** Nos termos do Regimento Interno da Câmara Municipal de Santa Bárbara D'Oeste, com a finalidade de apurar infrações político-administrativas do Prefeito, Vice-Prefeito e Vereadores no desempenho de suas funções, serão constituídas
- (A) Comissões Parlamentares de Inquérito.
 - (B) Comissões Processantes.
 - (C) Comissões de Ética.
 - (D) Comissões de Representação.
 - (E) Comissões Especiais de Inquérito.
- 40.** Nos termos da Resolução nº 04/2022 da Câmara Municipal, na hipótese de um servidor se enquadrar em situação na qual estaria apto a receber duas gratificações pelo exercício das funções de confiança, é correto afirmar que ele
- (A) terá direito a receber ambas as gratificações, sem limitação de teto remuneratório.
 - (B) terá direito a receber ambas as gratificações, mas limitadas ao teto legal remuneratório.
 - (C) não poderá acumular as gratificações, tendo direito apenas a de menor valor.
 - (D) não poderá acumular as gratificações, prevalecendo sempre a de maior valor.
 - (E) terá direito a receber cinquenta por cento de cada gratificação.

